



COLÉGIO SÃO MARCOS – EDUCAÇÃO INFANTIL,
ENSINO FUNDAMENTAL E MÉDIO
Rua José Maria de Paula, nº 1825 - Tel: (0XX43) 3432- 4356
CEP 86900-000 Jandaia do Sul – Paraná

Atividade para terça-feira (11 de agosto de 2020)

3º BIMESTRE

*MATEMÁTICA: UNIDADE 1
CONTEÚDO: HORA DE ORGANIZAR
PÁGINAS: 34 A 37

*CIÊNCIAS: UNIDADE 1
CONTEÚDO: ECOSSISTEMAS BRASILEIROS
PÁGINAS: 102 E 103

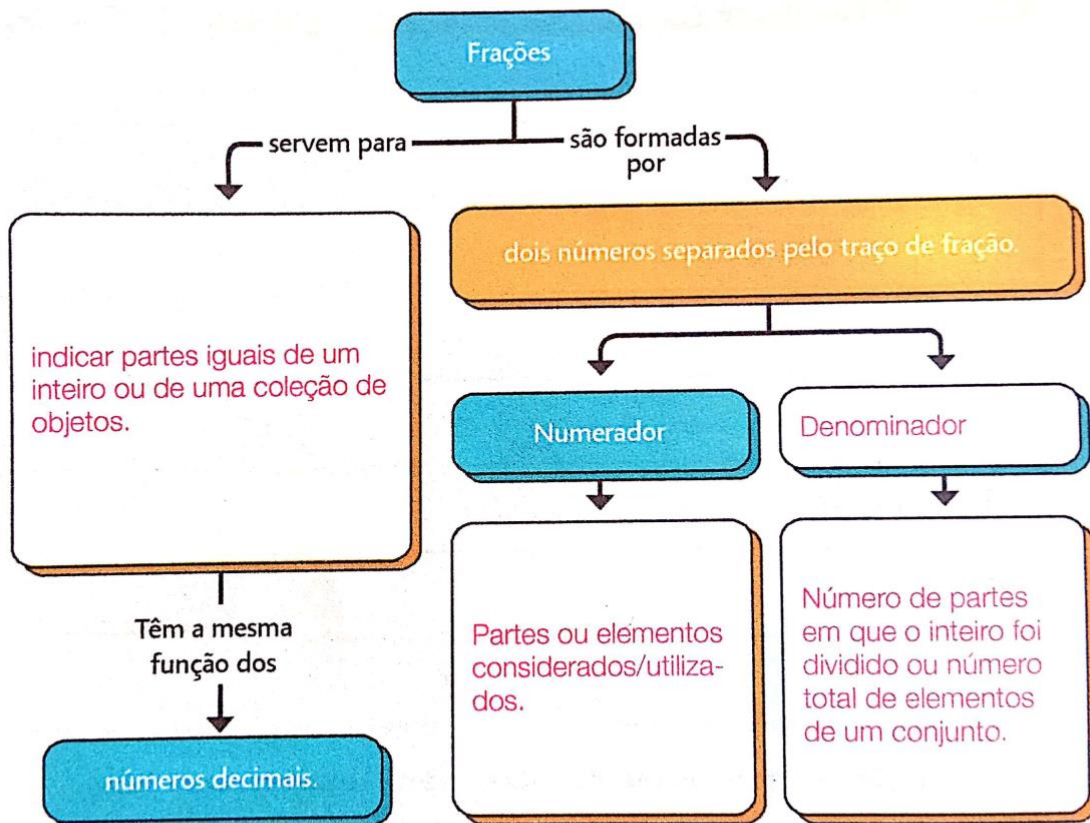
Correção da atividade referente ao dia 10/08

*MATEMÁTICA: UNIDADE 1
CONTEÚDO: HORA DE ORGANIZAR
PÁGINAS: 31 A 33




Neste capítulo, você aprendeu um pouco sobre frações: seus elementos e função.

1 Sobre esse assunto, complete os quadros.



2 Qual é a relação entre números decimais e frações?

Ambos indicam partes de um inteiro, ou então de uma coleção de objetos. Uma fração é equivalente ao número decimal resultante da divisão do numerador pelo denominador.



UM PASSO A MAIS

- 1 Em uma fração, lemos primeiro o numerador e depois lemos o denominador. Complete o quadro com a leitura das frações dadas.

Fração	Como se lê
$\frac{1}{2}$	Um meio
$\frac{1}{3}$	Um terço
$\frac{2}{4}$	Dois quartos
$\frac{3}{5}$	Três quintos
$\frac{1}{6}$	Um sexto
$\frac{2}{7}$	Dois sétimos
$\frac{6}{8}$	Seis oitavos
$\frac{7}{9}$	Sete nonos

- 2 Leia com atenção a escrita por extenso das frações dadas a seguir e escreva a fração.

A) dois sétimos

$$\frac{2}{7}$$

C) quatorze centésimos

$$\frac{14}{100}$$

B) três oitavos

$$\frac{3}{8}$$

D) sete milésimos

$$\frac{7}{1000}$$

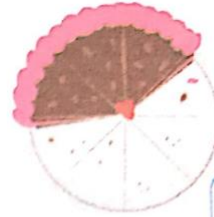
3 Escreva a fração que representa a parte retirada de cada torta.



$$\frac{1}{6}$$




$$\frac{2}{5}$$

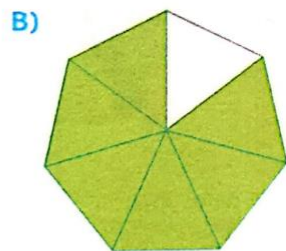


$$\frac{5}{8}$$

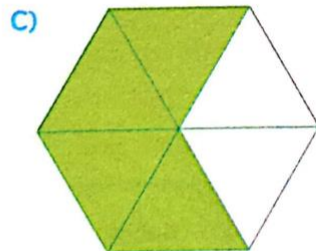
4 Observe com atenção as figuras geométricas e escreva por extenso a fração que indica a parte pintada em relação à figura inteira.



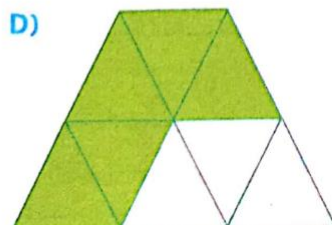
quatro nonos



seis sétimos



quatro sextos



cinco oitavos

O INTERVALO DE ALTITUDES.

EXERCÍCIO 2
OITO CORES

EXERCÍCIO 3
SUGESTÃO DE RESPOSTA: SIM, FAZ SENTIDO PELO
FATO DE A VEGETAÇÃO SER MAIS ABUNDANTE EM
ALTITUDES MAIS BAIXAS. JÁ NAS MAIORES ELA SE
TORNA MAIS ESCASSA.