



Colégio São Marcos – Educação Infantil, Ensino Fundamental e Médio.
Jandaia do Sul, 03 de setembro de 2020.

Professora: Vanessa Crestani Men

Série: Infantil 4

Aluno (a): _____

Aprendizagens trabalhadas:

- Números.
- Quantidade

Leia os numerais abaixo e cante a música dos indiozinhos (adaptada).

0-1- 2- -3 -4 – 5- 6- 7- 8- 9- 10- 11- 12- 13- 14- 15- 16- 17- 18- 19- 20.

(Leia os números de forma salteada para que a criança não aprenda só a sequência).

Musica Indiozinhos

1, 2, 3, Indiozinhos

4, 5, 6, Indiozinhos

7, 8, 9, Indiozinhos

10, 11, 12 indiozinhos

13, 14, 15, indiozinhos

16, 17, 18, 19, indiozinho

20 No pequeno bote

lam navegando pelo rio abaixo

Quando o jacaré se aproximou

E o pequeno bote dos

indiozinhos

Quase, quase virou... Mas não virou!

(Mesmo ritmo da música com 10 indiozinhos adaptei a música para ensinar os números até 20)

Assista o vídeo: link do vídeo para saber o ritmo:

<https://youtu.be/tHMWHviO4Qw>



Colégio São Marcos – Educação Infantil, Ensino Fundamental e Médio.

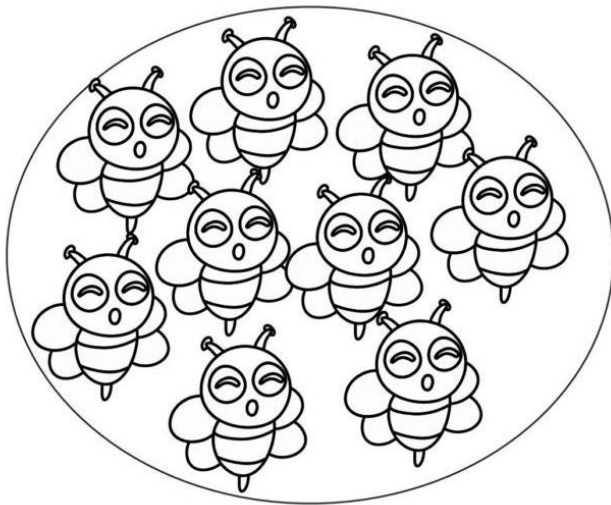
Jandaia do Sul, 03 de setembro de 2020.

Professora: Vanessa Crestani Men Série: infantil 4


Aluno (a): _____

Atividade 1


CIRCULE O NUMERAL CORRESPONDENTE AOS ELEMENTOS DE CADA CONJUNTO.




6 - 9 - 3 - 1



4 - 8 - 0 - 2



3 - 5 - 2 - 7



8 - 2 - 5 - 6



Atividade 2

1-ESCREVA OS NÚMEROS VIZINHOS:

<input type="text"/>	1	<input type="text"/>
<input type="text"/>	3	<input type="text"/>
<input type="text"/>	7	<input type="text"/>



<input type="text"/>	2	<input type="text"/>
<input type="text"/>	9	<input type="text"/>
<input type="text"/>	4	<input type="text"/>



<input type="text"/>	8	<input type="text"/>
<input type="text"/>	5	<input type="text"/>
<input type="text"/>	6	<input type="text"/>



<input type="text"/>	12	<input type="text"/>
----------------------	----	----------------------



<input type="text"/>	11	<input type="text"/>
<input type="text"/>	13	<input type="text"/>
<input type="text"/>	10	<input type="text"/>



Colégio São Marcos – Educação Infantil, Ensino Fundamental e Médio.


Jandaia do Sul, 03 de setembro de 2020.

Professora: Vanessa Crestani Men Série: infantil 4

Aluno (a): _____

Atividade 3

1- COMPLETE A TEIA DA ARANHA, LIGANDO OS NUMERAIS EM SEQUÊNCIA.



1- ESCREVA OS NUMERAIS DO 0 AO 10, SEGUINDO A SEQUÊNCIA NUMÉRICA.

0					



Colégio São Marcos – Educação Infantil, Ensino Fundamental e Médio.

Jandaia do Sul, 03 de setembro de 2020.

Professora: Vanessa Crestani Men Série: infantil 4

Aluno (a): _____

Atividade 4

Apostila integrado 4

Pág: 49

Contar os animais e registrar a quantidade



Colégio São Marcos – Educação Infantil, Ensino Fundamental e Médio.


Jandaia do Sul, 03 de setembro de 2020.

Professora: Vanessa Crestani Men Série: infantil 4

Aluno (a): _____

Atividade 5

QUINZINHO E MAGALI ESTÃO PULANDO AMARELINHA.
VAMOS COMPLETAR A AMARELINHA CARACOL, COLOCANDO OS NUMERAIS.



VAMOS COMPLETAR A SEQUÊNCIA ABAIXO:

0	1	2	3	4	5	6	7	8	9	10
		2			5			8		
	1			4					9	
0			3				7			



Colégio São Marcos – Educação Infantil, Ensino Fundamental e Médio.

Jandaia do Sul, 03 de setembro de 2020.

Professora: Vanessa Crestani Men Série: infantil 4

Aluno (a): _____

Atividade 6

ESCREVA NOS QUADRINHOS OS NUMEROS CORRESPONDENTES A CADA QUANTIDADE DE FRUTAS.





Colégio São Marcos – Educação Infantil, Ensino Fundamental e Médio.

Jandaia do Sul, 03 de setembro de 2020.

Professora: Vanessa Crestani Men Série: infantil 4

Aluno (a): _____

Atividade 7

Conte e pinte

