



**COLÉGIO SÃO MARCOS – EDUCAÇÃO INFANTIL,
ENSINO FUNDAMENTAL E MÉDIO.**

Rua José Maria de Paula, nº 1825 - Tel: (0XX43) 3432- 4356
CEP 86.900-000 Jandaia do Sul – Paraná

Maternal Professora: Andreia Regina

Jandaia do Sul, 07 de dezembro de 2 020.

Aluno(a)_____

Maternal II

CONTEÚDOS TRABALHADOS

*O eu, o outro e o nós

*Tempo, espaço, quantidade, relações e transformações

*Traços, sons, cores e formas

*Corpo, gesto e movimento

Apostila

Integrado página 63



**COLÉGIO SÃO MARCOS – EDUCAÇÃO INFANTIL,
ENSINO FUNDAMENTAL E MÉDIO**

**Rua José Maria de Paula, nº 1825 - Tel: (0XX43) 3432- 4356
CEP 86.900-000 Jandaia do Sul – Paraná**

Atividade 1:

Acesse o link abaixo e assista o vídeo.

https://www.youtube.com/watch?v=fM_RIEIw20&feature=youtu.be

Acessado em 07/12/2020.

Atividade 2:

Faça uma pintura com lápis de cor ou giz de cera usando os dedos dos pés, fazer em uma folha sulfite



**COLÉGIO SÃO MARCOS – EDUCAÇÃO INFANTIL,
ENSINO FUNDAMENTAL E MÉDIO**

Rua José Maria de Paula, nº 1825 - Tel: (0XX43) 3432- 4356
CEP 86.900-000 Jandaia do Sul – Paraná

Atividade 3:

Acesse o link abaixo e assista o vídeo.

<https://www.youtube.com/watch?v=3GLPplqrOhg&feature=youtu.be>

Acessado em 07/12/2020.

Atividade 4:

Apostila integrado página 63: Brincadeira de tampinhas.
Pinte as tampinhas.



**COLÉGIO SÃO MARCOS – EDUCAÇÃO INFANTIL,
ENSINO FUNDAMENTAL E MÉDIO**

Rua José Maria de Paula, nº 1825 - Tel: (0XX43) 3432- 4356
CEP 86.900-000 Jandaia do Sul – Paraná

Atividade 5:


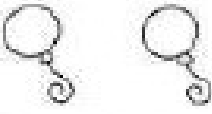
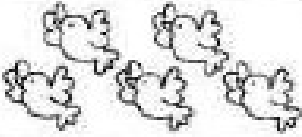





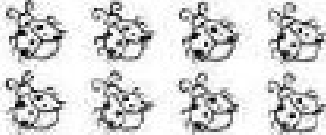



Acesse o link abaixo e assista o vídeo.

<https://www.youtube.com/watch?v=qM9OtvDzEqU&feature=youtu.be>

Acessado em 07/12/2020.

Atividade 6:

OBSERVE OS DESENHOS E CIRCULE O NUMERAL QUE REPRESENTA A QUANTIDADE DE ELEMENTOS EM CADA CONJUNTO.

		
6 7 8	0 1 2	5 6 7
		
4 5 6	1 2 3	3 4 5
		
1 2 3	3 4 5	6 7 8
		
7 8 9	4 5 6	3 4 5

PINTE DE LARANJA OS CONJUNTOS QUE REPRESENTAM CINCO ELEMENTOS.